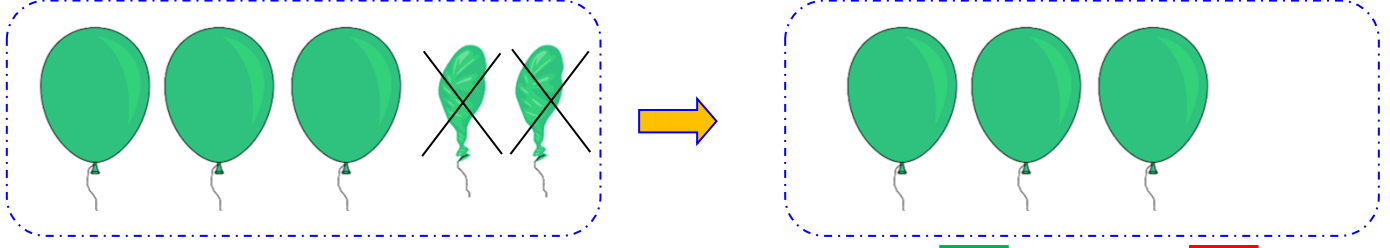
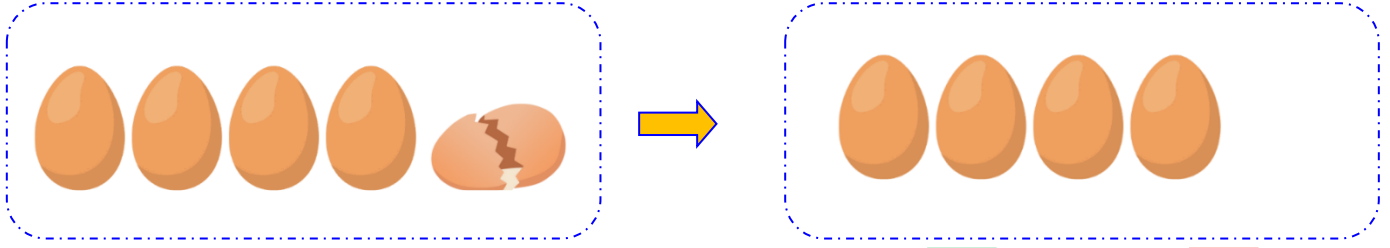


5 balonum vardı. 2 balonum patladı. Geriye 3 balon kaldı.



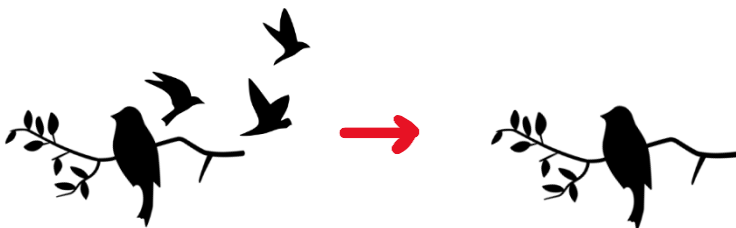
- Balonların sayısı değişti mi? Evet Hayır
- Balonların sayısı arttı mı azaldı mı? Arttı Azaldı
- Kalan balon sayısını bulmak için hangi işlemi yaparız?
 Toplama Çıkarma

5 yumurta vardı. 1 yumurta kırıldı. Geriye 4 yumurta kaldı.



- Yumurtaların sayısı değişti mi? Evet Hayır
- Yumurta sayısı arttı mı azaldı mı? Arttı Azaldı
- Kalan yumurta sayısını bulmak için hangi işlemi yaparız?
 Toplama Çıkarma


Daldaki 4 kuşun 3 tanesi uçtu.



- Daldaki kuş sayısı arttı mı azaldı mı?
 Arttı Azaldı



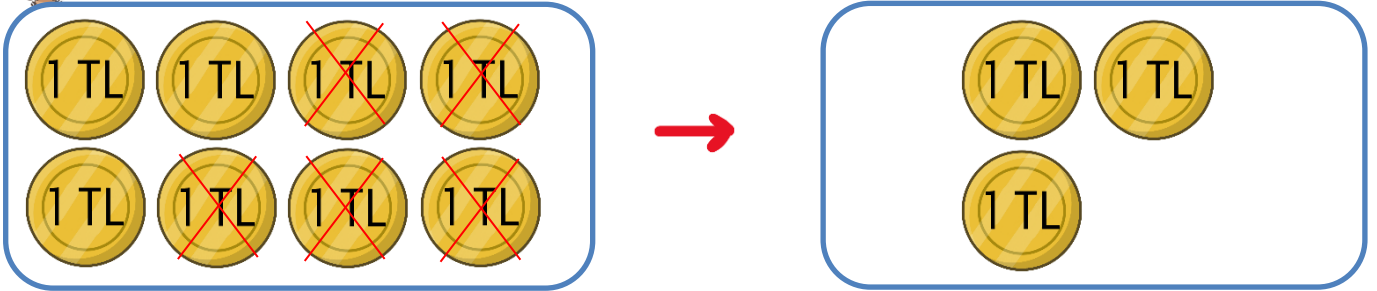
Tabaktaki 6 elmanın 2 sini yedim. Geriye 4 elma kaldı.



- Elmaların sayısı değişti mi? Evet Hayır
- Elmaların sayısı arttı mı azaldı mı? Arttı Azaldı
- Kalan elma sayısını bulmak için hangi işlemi yaparız?
 Toplama Çıkarma
- Hangi işlem kalan elmayı ifade eder?
 $6-2$ $6+2$



Cebimde 8 lira param vardı. 5 lirasını harcadım.



- Paralardaki değişiklik nasıl oldu?
 Çoğaldı Azaldı
- Kalan parayı bulmak için hangi işlemi yaparız?
 Toplama Çıkarma
- Hangi işlem kalan parayı ifade eder?
 $8-5$ $8+5$